

Konzervatoř a střední škola Jana Deyla

Test VHN

Obor

Jméno

1. Doplňte posuvky k notám a **POJMENUJTE STUPNICI**, kterou slyšíte:

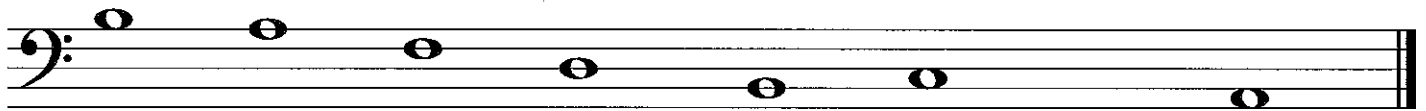


2. Doplňte intervaly směrem nahoru:



č. 5 v. 7 m. 6 v. 3 m. 7 m. 2 v. 2 č. 4

3. Doplňte intervaly směrem dolů:



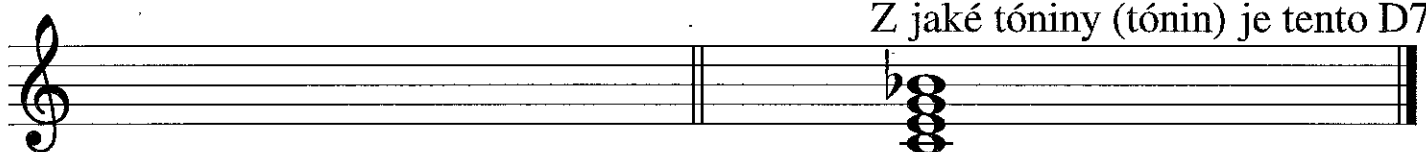
č. 5 v. 6 v. 7 v. 3 m. 3 m. 2 v. 2 č. 4

4. Doplňte požadované akordy od udaného tónu směrem nahoru:



zvětšený zmenšený moll dur
kvintakord kvintakord sextakord kvartsextakord

5. Zapište dominantní septakord (D7) z tóniny G dur.



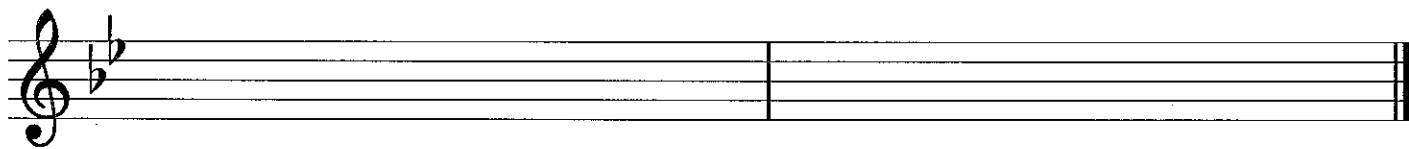
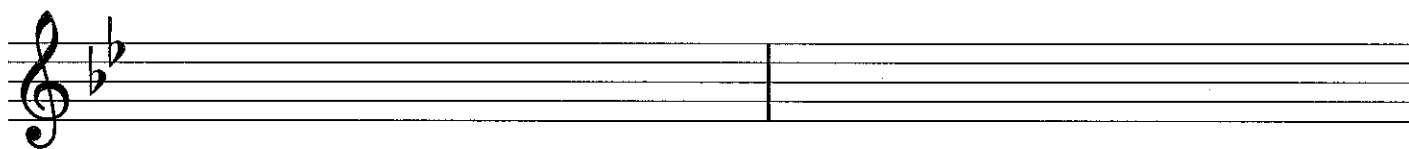
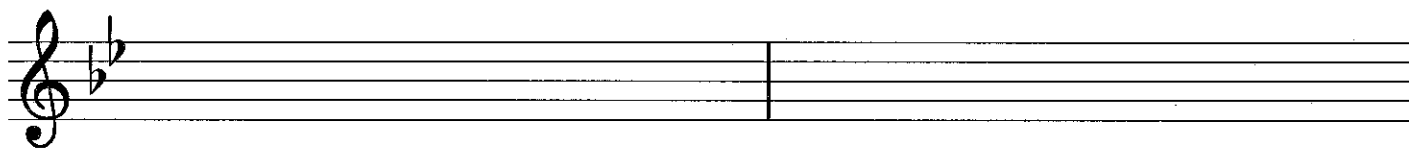

Z jaké tóniny (tónin) je tento D7?

6. Zapište předznamení uvedené tóniny

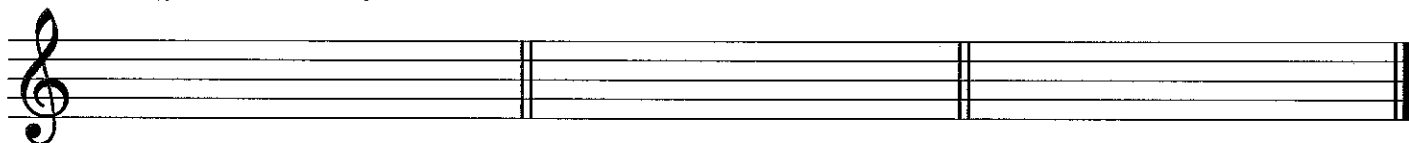


E dur f moll As dur h moll

7. Zapište hranou melodii ve správném rytmu:



8. Zapište akordy:



subdominantní
sextakord
z tóniny B dur

dominantní
kvartsextakord
z tóniny E dur

subdominantní
kvartsextakord
z tóniny d moll